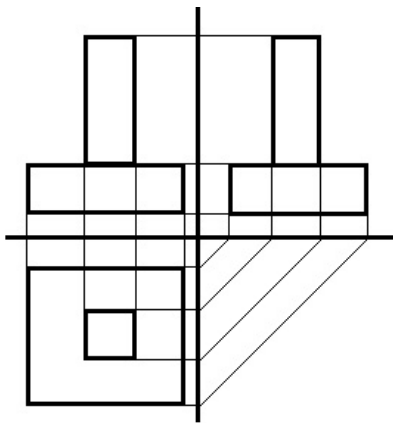
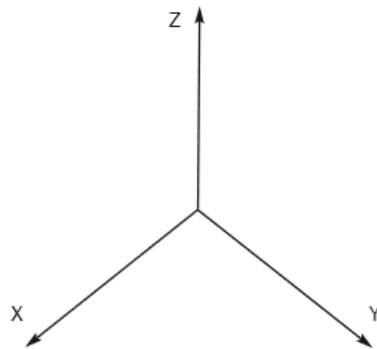


## Zadanie z lekcji

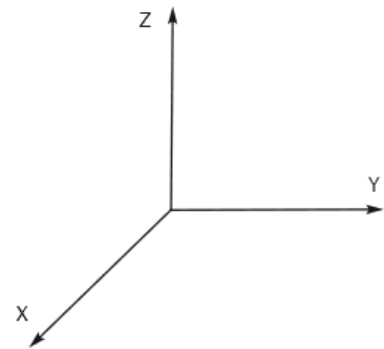
Uczniowie, którzy nie zrobili na lekcji - proszę dokończyć lub narysować w domu



Izometria



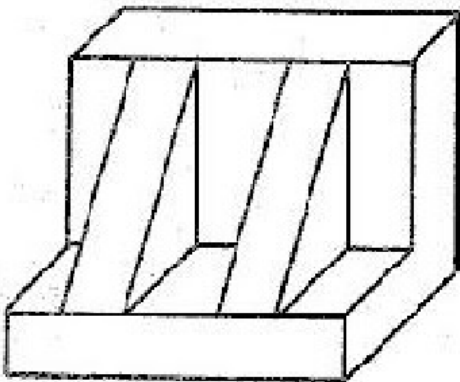
Dimetria ukośna



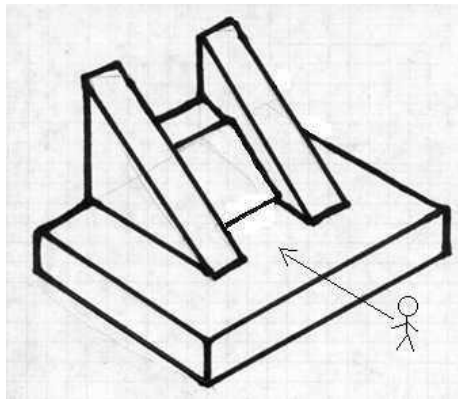
## Praca domowa – cz.1

Wykonaj rzuty prostokątne brył na kartce z bloku technicznego

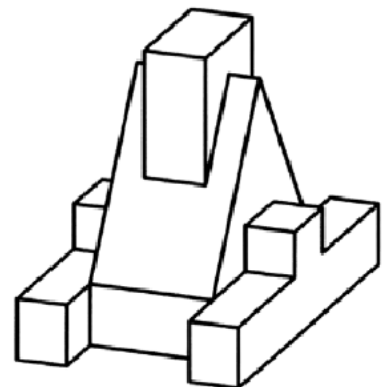
A



B



C

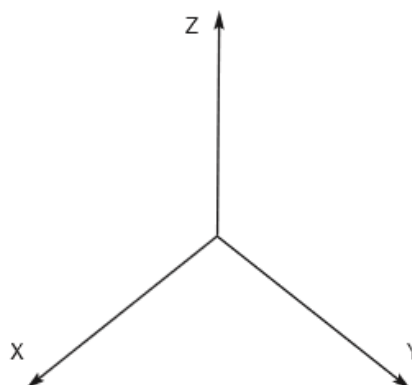


## Praca domowa – cz.2

Na ocenę celującą:

Przedstaw literę „X” i „H” w dimetrii ukośnej i w izometrii

Izometria



Dimetria ukośna

